

GWEITHDREFNOL

6CG16

Enw cyntaf _____

Cyfenw _____

Ysgol _____

Dosbarth _____

Dyddiad geni ○○ ○○ ○○○○

Dyddiad y prawf ○○ (05) (2016)

Cyfanswm y sgôr (uchafswm 35)



139113

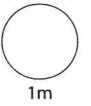


Llywodraeth Cymru
Welsh Government

1

$$21 + 13 + \boxed{} = 46$$

$$32 - 15 - \boxed{} = 7$$



1m



1m

2

Ysgrifennwch y rhif tri deg mil a thri deg mewn ffigurau.



1m

3



Mae 4 o blant yn rhannu'r arian hwn yn gyfartal.





Faint mae pob un yn ei gael?


 C

1m

4

Oedrannau'r holl bobl mewn parti

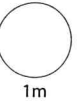
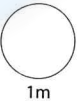
Dan 10	
10 – 20	
21 – 40	
dros 40	

Allwedd
 = 2 o bobl

Cyfrifwch faint o bobl yn y parti sydd dan 21

Cyfrifwch pa ffraciwn o bobl sydd dros 40

Ysgrifennwch y ffraciwn yn ei ffurf symlaf.



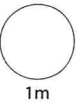
5

Mae gan Gethin £9

Mae gan Carys wyth gwaith yn fwy o arian.

Faint o arian sydd gan Carys?

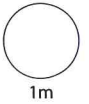
£



6

6.5 litr =

mililitr



1m

7

Mae Mr Huws angen gyrru 72 milltir o'i gartref i Aberystwyth.

Mae'n disgwyl gyrru ar gyflymder o tua 35 milltir yr awr, yn ddi-stop.

Os bydd yn gadael am 09:15 tua faint o'r gloch y byddai'n disgwyl cyrraedd Aberystwyth?

Rhowch gylch o amgylch eich ateb.

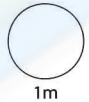
09:40

09:50

10:20

11:20

12:45



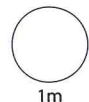
1m

8

Mae 47% o'r dosbarth yn fechgyn.

Pa **ganran** o'r dosbarth sy'n **ferched**?

%



1m

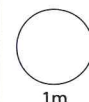
9

Mae Farah yn rhedeg ras mewn 43.6 eiliad.

Mae Alys yn cymryd 2.9 eiliad **yn llai**.

Pa mor hir gymerodd Alys i redeg y ras?

eiliad



1m

10

$$945 \div 9 =$$

1m

11

Mae Tom yn chwarae criced.

Ei sgoriau ar gyfer 5 gêm yw:

12 3 20 10 10

Beth yw **amrediad** sgoriau Tom?

1m

Beth yw **cymedr** y sgoriau?

1m

12

$$3.25 \times$$

$$= 325$$

$$\div 1000 = 32.5$$

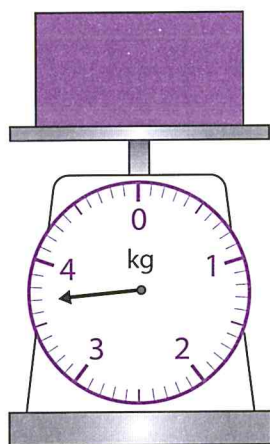
1m

1m

CYFANSWM

9m

13



Faint mae'r parcel hwn yn ei bwysu?

kg a g



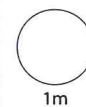
14

Mae perchennog siop yn prynu bwrdd am £200

Mae'n ei werthu ac yn gwneud elw o 10%.

Faint o elw mae'n ei wneud?

£

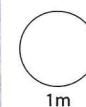


15

Mae tâp 640cm yn cael ei dorri'n 40 darn cyfartal.

Pa mor hir yw pob darn?

cm



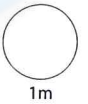
16 Amserlen bysiau

Criccieth	15:10	15:43	16:10	16:51
Llanystumdwy	15:14	15:46	16:14	16:55
Chwilog	15:20	15:53	16:20	17:01
Abererch	15:29	16:01	16:29	17:10
Pwllheli	15:34	16:08	16:34	17:15

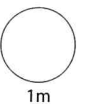
Mae Sam yn byw yn **Chwilog**.

Mae angen iddo fod ym Mhwllheli erbyn **5pm**.

Am faint o'r gloch mae'n gallu dal y bws hwyraf o **Chwilog**?

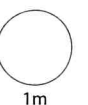


Faint o amser mae'n ei gymryd i fynd o **Griccieth** i **Abererch** ar fws 15.43?

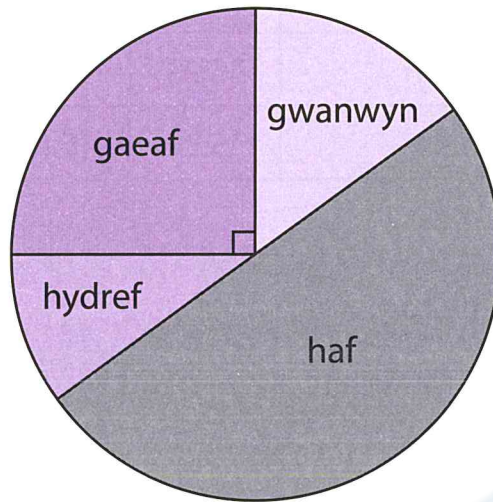


17

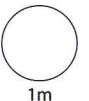
$$\frac{5}{6} \text{ o } 180 =$$



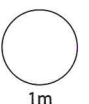
- 18 Pleidleisiodd Blwyddyn 6 dros eu hoff dymor.
Mae'r siart cylch yn dangos y canlyniadau.



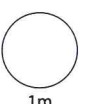
Dewisodd 25 o blant y gaeaf.
Faint o blant bleidleisiodd i gyd?



Dewisodd 10 o blant yr hydref.
Faint ddewisodd y gwanwyn?



- 19 Ysgrifennwch y rhif sydd **bum cant** yn llai nag **wyth can mil**.



20 Cyfrifwch 645×15



21 Ym mhob blwch ysgrifennwch $< \text{neu} > \text{neu} =$ i gymharu'r unedau.

1 cilometr

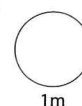


1 filltir


1 litr




1 peint



22 Mae Mrs Beynon yn prynu'r carped hwn.



Er mwyn iddo ffitio yn ei hystafell, mae'n torri darn petryal oddi wrtho.



Beth yw **arwynebedd** y carped siâp-L sydd ar ôl?

A large empty rectangular box for writing the answer. In the top left corner of the box, there is a small icon of a notepad and a pencil. In the bottom right corner of the box, there is a smaller rectangular box containing the text m^2 .


2m

1m

23

50% o $3\frac{1}{2}$ =

24




Pris arferol £6.00
am 2 focs

Cynnig arbennig!

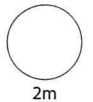
25% o ostyngiad oddi ar y pris arferol

Mae Erin yn defnyddio'r cynnig arbennig i brynu 10 o focsys.

Faint mae hi'n ei dalu?



£




25

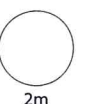
Cymhareb yr **oedolion** i **blant** mewn parti yw 5 : 3

Mae 48 o bobl yn y parti.

Faint sy'n **oedolion**?



o oedolion



CYFANSWM



YSGOL CYMERAU