

GWEITHDREFNOL

4CG17

Enw cyntaf _____

Cyfenw _____

Ysgol _____

Dosbarth _____

Dyddiad geni ○○ ○○ ○○○○

Dyddiad y prawf ○○ 05 2017

Cyfanswm y sgôr (uchafswm 35)



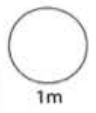
150246



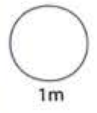
Llywodraeth Cymru
Welsh Government

1

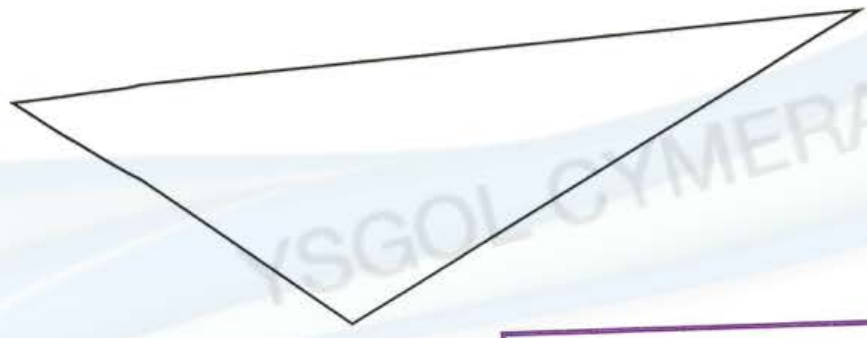
$$15 + 25 + 60 = \boxed{}$$



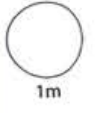
$$60 - 25 - 15 = \boxed{}$$



2 Defnyddiwch eich pren mesur i fesur ochr **hiraf** y triongl hwn.



cm a mm



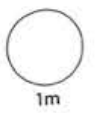
3

Cardiau
6 o gardiau mewn 1 pecyn



Mae gan Mrs Jones 42 o'r cardiau hyn.
Sawl **pecyn** sydd ganddi?

pecyn



4

Plant Dosbarth 4

	nifer y plant llaw dde	nifer y plant llaw chwith
merched	12	4
bechgyn	9	5

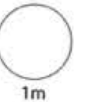
Mae mwy o **ferched** llaw dde na rhai llaw chwith.

Faint yn fwy?

yn fwy o ferched

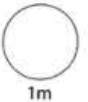
Yn Nosbarth 4, faint o blant sydd **i gyd**?

o blant

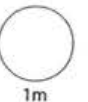


5

Talgrynnwch 627 i'r 10 agosaf.



Talgrynnwch 627 i'r 100 agosaf.



6

Chwaraeon mae plant yn eu gwneud

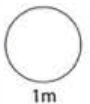
	nofio	pêl-droed	beicio	rygbi	pêl-fasged
Tom	✓				✓
Bryn	✓		✓	✓	
Lev	✓	✓	✓		✓
Meg		✓		✓	
Aya	✓			✓	✓

Faint o blant sy'n gwneud 3 math o chwaraeon yn union?

o blant

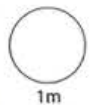


Pwy sy'n chwarae pêl-droed a rygbi?



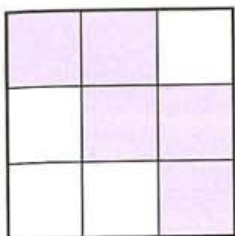
7

Hanner 270 =

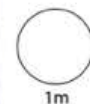


8

Pa ffracsiwn o'r siâp hwn sydd wedi ei liwio?

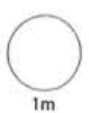


—



9

$$81 \div 3 = \boxed{}$$



10

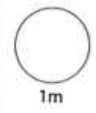
Dyma ran o galendr.

Awst					
Dydd Sul		6	13	20	27
Dydd Llun		7	14	21	28
Dydd Mawrth	1	8	15	22	29
Dydd Mercher	2	9	16	23	30
Dydd Iau	3	10	17	24	31
Dydd Gwener	4	11	18	25	
Dydd Sadwrn	5	12	19	26	

Mae Hassan yn dechrau ei wyliau ar y 4ydd o Awst.

Mae ei wyliau'n gorffen 10 diwrnod wedyn.

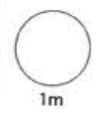
Ar ba **ddiwrnod** o'r wythnos mae ei wyliau'n gorffen?



Ar y **trydydd dydd Gwener** ym mis Awst, mae Hassan yn mynd at y deintydd.

Beth yw'r **dyddiad** ar y diwrnod hwnnw?

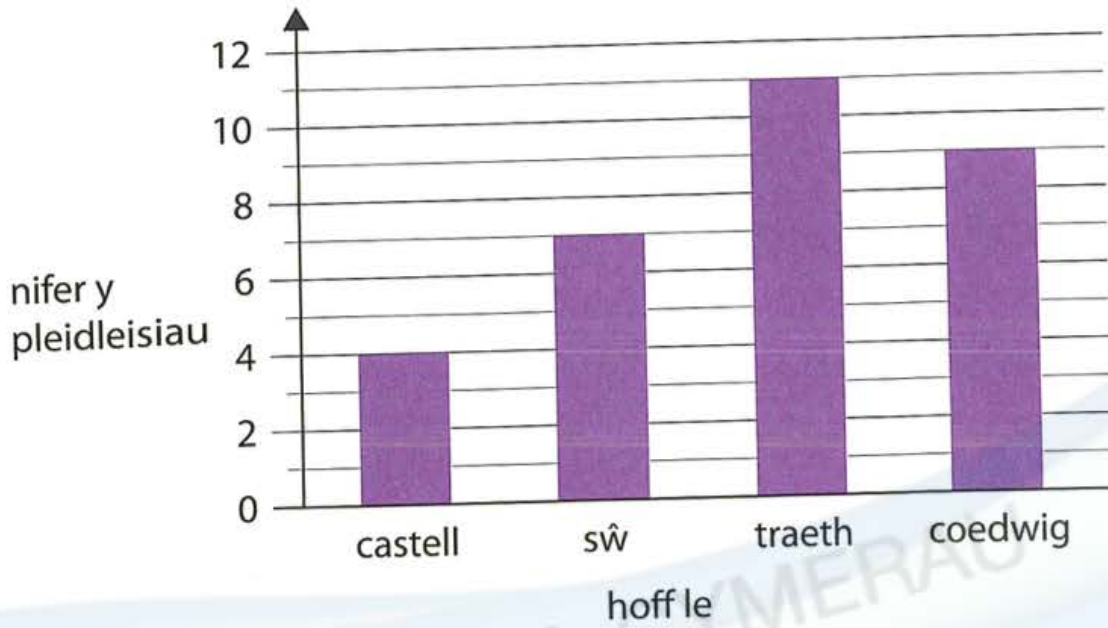
o Awst



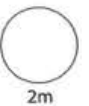
CYFANSWM



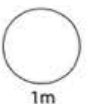
- 11 Mae plant yn trefnu diwrnod allan.
Maen nhw'n pleidleisio dros eu hoff le.



Faint o blant sydd **heb** bleidleisio dros y traeth?



- 12 Ysgrifennwch y **rhif** sydd **50 yn llai** na **mil**.



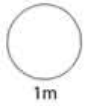
13 Ysgrifennwch y rhain yn eu trefn.

0°C -5°C 3°C -2°C

--	--	--	--

yr oeraf

y cynhesaf

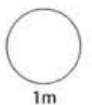


14 Dyma bedwar cerdyn rhif:

7	3	2	9
---	---	---	---

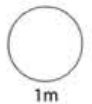
Defnyddiwch bob un o'r pedwar cerdyn i wneud y rhif **lleiaf** posibl.

--	--	--	--

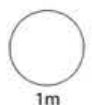


Defnyddiwch **dri** o'r cardiau i wneud y rhif sydd **agosaf** at 300

--	--	--



15 $3 \times 6 = \square + 6$



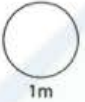
16 Mae'r gêm hon yn costio £7.50

Mae Elin yn cynilo 50c yr wythnos i brynu'r gêm.

Am faint o wythnosau mae hi'n cynilo?



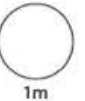
o wythnosau



17

$$4.5 \times \boxed{} = 45$$

YSGOL CYMERAU

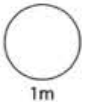


18 Mae gan Jess £3.24

Mae'n rhoi **hanner** i'w brawd.

Faint mae hi'n ei roi i'w brawd?

£



19 Ysgrifennwch yr amserau sydd ar goll.

09 : 30


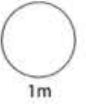
hanner awr wedi naw

15 : 45

chwarter

19 : 15

chwarter



20



Tatws
Cost 1kg
yw £1.25

Moron
Cost 1kg
yw 60c



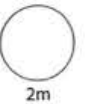
Mae Mr Thomas yn prynu 4kg o datws a 2kg o foron.

Mae'n talu gyda phapur £10

Faint o newid mae'n ei gael?



£



CYFANSWM



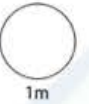
21 Mae sioe yn dechrau am

18 : 50

Hyd y sioe yw 1 awr ac 15 munud.

Mae'r sioe yn gorffen am

:



22 Mae gan ffermwr 4 bocs o wyau.

Mae pob bocs yn cynnwys 24 o wyau.

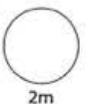


Mae'n gwerthu $\frac{1}{3}$ o'r holl wyau.

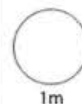
Faint o'r wyau mae e'n eu gwerthu?



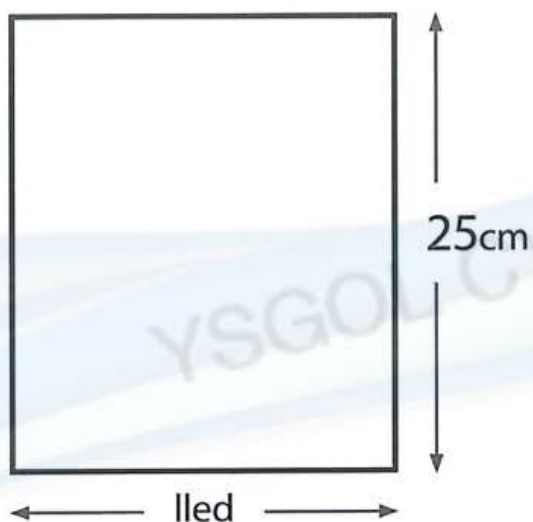
o wyau



23 Ysgrifennwch y gwahaniaeth rhwng 536 a 571



24 Mae cerdyn petryal yn 25cm o hyd.



Peidiwch â
defnyddio pren
mesur!

Nid hwn yw'r
maint llawn.

Perimetr y cerdyn yw 92cm.

Beth yw lled y cerdyn? Dangoswch eich gwaith.

cm



CYFANSWM



YSGOL CYMERAU

© Hawlfraint y Goron 2017